

# Matematik

Delprov E

Årskurs

3

---

Elevens namn och klass/grupp

1. En kartong med ägg kostar 6 kronor.

- a) Hur mycket kostar det att köpa 3 kartonger ägg?  
*Visa hur du löser uppgiften och skriv svar.*



Svar: \_\_\_\_\_

- b) Hur många kartonger ägg har du köpt när du betalat 24 kr?  
*Visa hur du löser uppgiften och skriv svar.*

Svar: \_\_\_\_\_

2. Rut var 3 år när Viggo föddes.

- a) Hur många år är Rut när Viggo fyller 2 år? Svar: \_\_\_\_\_

- b) Hur många år är Rut när Viggo fyller 18 år? Svar: \_\_\_\_\_

- c) Hur många år fyller Viggo när Rut är 13 år? Svar: \_\_\_\_\_

3. Nova och Troj spelar spel.

- a) Troj får 5 poäng. Nova får tre gånger så många poäng som Troj.  
Hur många poäng får Nova?

Svar: \_\_\_\_\_

- b) Gör ett annat förslag där Nova får tre gånger så många poäng som Troj.




Svar: Troj får \_\_\_\_\_ poäng. Nova får \_\_\_\_\_ poäng.

4. Den vita hästen har ätit 6 äpplen och den bruna hästen har ätit dubbelt så många. Nu finns det 3 äpplen kvar.  
Hur många äpplen fanns det från början?  
*Visa hur du löser uppgiften och skriv svar.*



Svar: \_\_\_\_\_



5. På en gård finns det 10 djur. Det är kor, hästar och får.  
Hälften av alla djur är kor. Det finns tre fler hästar än får.  
Hur många djur av varje sort finns det på gården?

	Kor	Hästar	Får
			
10 djur			

6. Viggo har 30 kronor och ska köpa både äpplen och morötter.  
Han handlar för mer än 25 kronor.

Hur många äpplen och hur många morötter  
kan Viggo ha köpt?

*Visa hur du löser uppgiften och skriv svar.*

Prislista	
	Äpplen 8 kr/styck
	Morötter 3 kr/styck

Svar: \_\_\_\_\_